

1*	Miejsce egzaminu	
2*	Numer kandydata	
3*	Kierunek studiów	
4	Liczba uzyskanych punktów	/100

*** wypełnia kandydat**

TEST Z HISTORII

Test rekrutacyjny dla kandydatów na studia w Polsce

WERSJA II - A

2011 rok

I. Zaznacz poprawną odpowiedź.

1. W 1278 roku pod Suchymi Krutami rozegrała się bitwa, w której zginął król Czech
 A) Wacław II B) Przemysł Ottokar II C) Maciej Korwin D) Brzetysław I
 z dynastii
 A) Piastów. B) Przemyślidów. C) Luksemburgów. D) Arpadów.
2. Wojna trzynastoletnia toczyła się w latach
 A) 1400 – 1413 B) 1433 – 1446 C) 1454 – 1466 D) 1466 - 1480
 pomiędzy
 A) Francją i Anglią. B) Polską i Litwą.
 C) Polską i Zakonem Krzyżackim. D) Litwą i Zakonem Krzyżackim.
3. Dynastia Rurykowiczów panowała
 A) w Czechach B) w Polsce C) na Rusi D) na Węgrzech
 w okresie
 A) VIII – XII w. B) IX – XIII w. C) VIII – XIV w. D) IX – XVI w.
4. Pierwszym podróżnikiem, który odbył podróż dookoła świata był
 A) Krzysztof Kolumb. B) Amerigo Vespucci.
 C) Ferdynand Magellan. D) Vasco da Gama.
 Jego podróż odbyła się w latach
 A) 1488 – 1498. B) 1497 – 1498. C) 1519 -1522. D) 1577 – 1580.
5. Pierwszym królem Polski był
 A) Bolesław I Chrobry B) Mieszko I
 C) Władysław I Łokietek D) Kazimierz I Odnowiciel
 z dynastii
 A) Przemyślidów. B) Jagiellonów. C) Rurykowiczów. D) Piastów.
6. Pierwszy przywilej dla szlachty został wydany przez króla Ludwika Węgierskiego w
 A) Budzie B) Warszawie C) Koszycach D) Krakowie
 w roku
 A) 1333. B) 1370. C) 1374. D) 1399.
7. Unia realna Polski z Litwą została zawarta w 1569 roku w
 A) Brześciu B) Lublinie C) Wilnie D) Krakowie
 za panowania
 A) Władysława Jagiełły. B) Zygmunta II Augusta.
 C) Kazimierza Jagiellończyka. D) Zygmunta I Starego.
8. W nocy 23/24 sierpnia 1572 roku zamordowano w Paryżu około 3 tysiące hugenotów.
 Wydarzenie to przeszło do historii jako
 A) „Noc długich noży”. B) „Noc św. Bartłomieja”.
 C) „Krwawa niedziela”. D) „Czarny czwartek”.
 We Francji panowała wówczas dynastia
 A) Kapetyngów. B) Walezjuszy. C) Burbonów. D) Karolingów.

9. Pierwszą konstytucję na świecie uchwalono w roku
 A) 1787 B) 1789 C) 1791 D) 1793
 w
 A) Wielkiej Brytanii. B) USA.
 C) Polsce. D) Francji.
10. Michał Anioł Buonarroti tworzył w epoce
 A) średniowiecza, B) odrodzenia, C) baroku, D) oświecenia,
 która trwała w Europie
 A) od V do XV w. B) od XV do XVI w.
 C) od XVI do XVII w. D) od XVIII do XIX w.
11. Demokratyczną zasadę trójpodziału władz sformułował
 A) Niccolò Machiavelli B) Karol Marks
 C) Adam Smith D) Karol Ludwik Monteskiusz
 w epoce
 A) średniowiecza. B) odrodzenia. C) baroku. D) oświecenia.
12. Wojska ruskie odniosły pierwsze wielkie zwycięstwo nad Tatarami w bitwie na
 Kulikowym Polu. Wojskami ruskimi dowodził
 A) Dymitr Doński B) Piotr I
 C) Jarosław Mądry D) Borys Godunow
 w roku
 A) 1054. B) 1380. C) 1605. D) 1709.
13. Ostatnim królem elekcyjnym w Polsce był
 A) Zygmunt II August, B) Henryk Walezy,
 C) Stanisław August Poniatowski, D) Kazimierz Wielki,
 który panował w latach
 A) 1333 – 1370. B) 1548 – 1572. C) 1573-1574. D) 1764-1795.
14. W XIX wieku Polacy próbowali odzyskać niepodległość walcząc przeciwko zaborcom.
 Powstanie listopadowe wybuchło w roku
 A) 1830 B) 1848 C) 1863 D) 1871
 przeciwko
 A) Rosji. B) Prusom.
 C) Austrii. D) Austro-Węgrom.
15. Polska odzyskała niepodległość w 1918 roku. Jej pierwszym prezydentem został
 A) Gabriel Narutowicz B) Stanisław Wojciechowski
 C) Józef Piłsudski D) Roman Dmowski
 w roku
 A) 1918. B) 1920. C) 1922. D) 1924.

16. Przewrót (zamach) majowy w Polsce miał miejsce w roku
 A) 1918. B) 1922. C) 1926. D) 1928.
 W jego wyniku faktyczną władzę w Polsce objął
 A) Józef Piłsudski. B) Roman Dmowski.
 C) Gabriel Narutowicz. D) Wincenty Witos.
17. Druga wojna światowa rozpoczęła się od ataku Niemiec na Polskę
 A) 1 VIII 1914 r. B) 11 XI 1918 r. C) 1 IX 1939 r. D) 8 V 1945 r.
 Prezydentem Polski był wtedy
 A) Józef Piłsudski. B) Gabriel Narutowicz.
 C) Ignacy Mościcki. D) Eugeniusz Kwiatkowski.
18. Ruch społeczny „Solidarność” będący opozycją do rządzącej Polską PZPR powstał w
 A) 1979 r. B) 1980 r. C) 1981 r. D) 1982 r.
 Pierwszym przewodniczącym „Solidarności” został
 A) Lech Wałęsa. B) Adam Michnik.
 C) Tadeusz Mazowiecki. D) Wojciech Jaruzelski.
19. Ostatnim komunistycznym prezydentem PRL był
 A) Lech Wałęsa. B) Bolesław Bierut.
 C) Wojciech Jaruzelski. D) Aleksander Kwaśniewski.
 Został wybrany na ten urząd w roku
 A) 1988. B) 1989. C) 1990. D) 1991.
20. Pierwszym Polakiem, który otrzymał Pokojową Nagrodę Nobla jest
 A) Czesław Miłosz. B) Lech Wałęsa.
 C) Wisława Szymborska. D) Andrzej Wajda.
 Otrzymał tę prestiżową nagrodę w roku
 A) 1980. B) 1983. C) 1996. D) 2000.

maksymalna liczba punktów - 40	
--------------------------------	--

II. Uzupełnij tekst.

Dzień 11 1918 roku jest uznawany w Polsce za dzień, w którym Polska odzyskała Na czele państwa polskiego stanął
 Powstające państwo polskie musiało siłą określić swoje granice, niejednokrotnie walcząc ze swoimi sąsiadami. W grudniu 1918 roku do Poznania przyjechał światowej sławy pianista Wydarzenie to stało się sygnałem dla Polaków do rozpoczęcia powstania Mieszkańcy Śląska również musieli zbrojnie wystąpić przeciwko państwu aby móc połączyć się z Polską. Pierwsze powstanie śląskie wybuchło w roku, drugie w roku i trzecie, które

zdecydowało o przyłączeniu części Śląska do Polski w roku. W latach toczyła się na wojna polsko-bolszewicka. Jej przełomowym momentem, była bitwa warszawska stoczona w lipcu roku. Po zakończeniu wojny polsko-bolszewickiej granice państwa polskiego były ustalone i akceptowane przez państwa sąsiadujące z Polską.

maksymalna liczba punktów - 24	
--------------------------------	--

III. Uporządkuj w kolejności chronologicznej wymienionych niżej polskich premierów.


Władysław Sikorski, Tadeusz Mazowiecki, Jędrzej Moraczewski, Józef Cyrankiewicz, Jerzy Buzek

A.	
B.	
C.	
D.	
E.	


maksymalna liczba punktów - 10	
--------------------------------	--

IV. Określ styl architektoniczny przedstawionych na ilustracjach budynków, korzystając z podanych wyrazów:

renesans, secesja, barok, gotyk, klasycyzm, eklektyzm, architektura romańska



A.



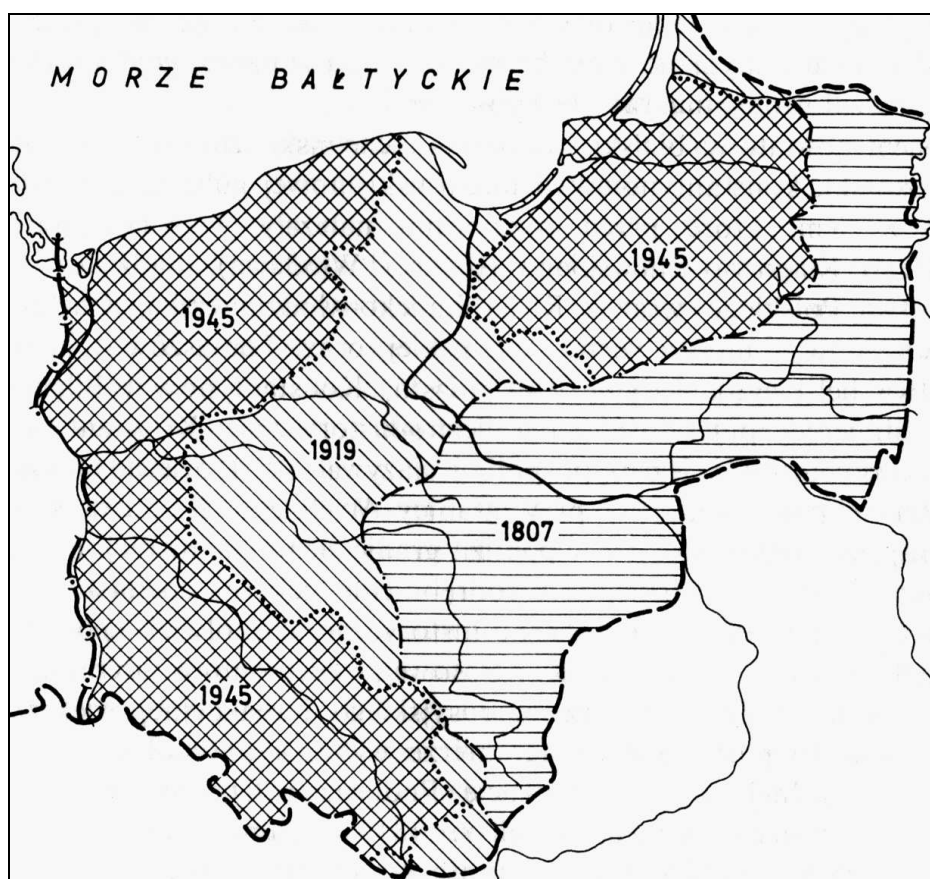
B.



C.

maksymalna liczba punktów - 6	
-------------------------------	--

V. Podaj nazwy trzech międzynarodowych traktatów (układów), które zdecydowały o zmianach granic Polski przedstawionych na poniższej mapie.



A. 1807 –

B. 1919 –

C. 1945 –

maksymalna liczba punktów - 6	
-------------------------------	--

VI. Nazwij wydarzenia historyczne w dziejach Polski, które miały miejsce w podanych latach oraz wymień jedną postać historyczną, biorącą w nich udział.

rok 1525	hołd pruski	Zygmunt I Stary
rok 966		
rok 1364		
rok 1410		
rok 1569		
rok 1610		
rok 1795		
13 XII 1981		

maksymalna liczba punktów - 14	
--------------------------------	--